

《学习报》是一份多学科、多层次、多角度面向全国大中小学生及教育工作者的教辅类报纸。本报的办报方针是“紧扣课标及教材，针对年级特点和学科特色同步辅导”。本报旨在拓宽学生阅读视野，激发学习兴趣，培养高尚的人格和高雅的情趣，提升综合能力。本报诚邀各学科各类教育、教辅稿件，撰稿、荐稿者请注意以下事项：

1. 稿件一经采用，即视为同意将网络传播权及电子发行权授予本报。本报一次性支付的稿酬已包含上述授权的使用费。
 2. 荐稿或稿件中选用他人文章时，请务必注明原作者姓名和选文出处，否则不予刊登。若原出版者注明“未经许可，不得转载”，请勿推荐，来稿一律不收。推荐类稿件一经采用，本报将依据《中华人民共和国著作权法》之规定给原作者和推荐者奉寄稿酬和样报。
 3. 由于部分作者通讯地址不详，见报后请与我报及时联系，以便奉寄稿酬和样报。
- 电话：0351-3239626 (总编办) 或请与各编辑部联系咨询。



学习报

http://www.xuexibao.com

山西出版传媒集团主管 山西三晋报刊传媒集团主办 学习报社编辑出版 总编辑 苗俊青 国内统一刊号 CN14-0708/(F)



一年级 数学 第23期 出版日期 2020年2月19日 总第1455期

漫画大本营

吃苹果

☆上海 徐燕



qí qí de mā ma mǎi le 13 gè píng guǒ 。
1. 琦琦的妈妈买了13个苹果。



qí qí chī le yì xiē hòu , hái shèng gè 9 。
2. 琦琦吃了一些后，还剩9个。



fēi fēi de bà ba mǎi le 11 gè píng guǒ 。
3. 菲菲的爸爸买了11个苹果。



fēi fēi yì kǒu qì chī le 3 gè 。
4. 菲菲一口气吃了3个。




qí qí hé fēi fēi shuí chī de píng guǒ duō duō jǐ gè ?
5. 琦琦和菲菲谁吃的苹果多？多几个？

迷宫转转

苹果迷宫

xiǎo péng you kuài lái shì zhe zǒu yì zǒu zhè ge píng guǒ mí gōng ba !
小朋友，快来试着走一走这个苹果迷宫吧！



智慧小岛

共有多少只小鸟

liǎng kē shù shàng gòng yǒu 12 zhī xiǎo niǎo yǒu 4 zhī xiǎo niǎo cóng dì yī kē shù shàng fēi dào dì èr kē shù shàng , xiàn zài liǎng kē shù shàng gòng yǒu duō shǎo zhī xiǎo niǎo ?
两棵树上共有12只小鸟，有4只小鸟从第一棵树上飞到第二棵树上，现在两棵树上共有多少只小鸟？

学习风向标

《加与减(一)》目标指南

- xiǎo péng you zhè zhōu wǒ men jiāng jì xù gōng gù xué xí yǐ nèi de tuì wèi jiǎn fǎ 。
小朋友，这周我们将继续巩固学习20以内的退位减法。
1. 掌握十几减几的退位减法的计算方法：破十法，平十法和想加算减法。
 2. 会应用十几减几的退位减法解决简单的实际问题。
 3. 会做减法表。



开心一刻



按错了



数学中的多音字



xiǎo péng you wǒ men xué xí shù xué shí wèi le zhǔn què biǎo dá yì sī yào zhǎng wò shù xué zhōng yì xiē cháng yòng duō yīn zì de dú fǎ 。
小朋友，我们学习数学时，为了准确表达意思，要掌握数学中一些常用多音字的读法。

lì rú “数”，读 shǔ 时，意为查点（数目），计算起来、比较起来（最突出）等，如“数苹果”“数一数二”；读 shù 时，数学上表示事物的量的基本概念，数目，如“整数”“人数”等。

zài shù xué lǐ , “差”也有多种读音。减法运算中，一个数减去另一个数所得的数就读 chā , “差额”“差价”也读 chā ; 读 chà 时，yǒu bù xiāng tóng , quē shǎo , cuò wù , déng yì sī , rú “不相同，缺少，错误”等意思，如 chā bu duō , chà yì diǎn , shuō chà le “差不多”“差一点儿”“说差了”。

“长”，在 cháng dù “长度”“长短”“长方体”中读 cháng ; 而在“增长” zhǎng gāo “长高”中读 zhǎng 。

xiǎo péng you zài xué xí shù xué shí , nǐ hái jiàn guò nǎ xiē zì shì duō yīn zì ne ? xiě yì xiě ba !
小朋友，在学习数学时，你还见过哪些字是多音字呢？写一写吧！



学习报·小学趣学堂 微信扫码 获取免费资源 家长辅导真轻松



扫码免费获取 答题指南

《加与减(一)》 单元测试

☆福建 徐慧娟 陈细荣

班级 _____ 姓名 _____

yī kāi xīn tián kòng 一、开心填空。

1. 在计算 $11-3$ 时, 可以想()+3=11, 所以 $11-3=$ (); 也可以先把 11 分成()和(), 先算 $10-()=()$, 再算()+1=(); 还可以把 3 分成 1 和 2, 先算 $11-1=()$, 再算()-2=()。

2. 18 比 9 多(), 7 比 12 少()。

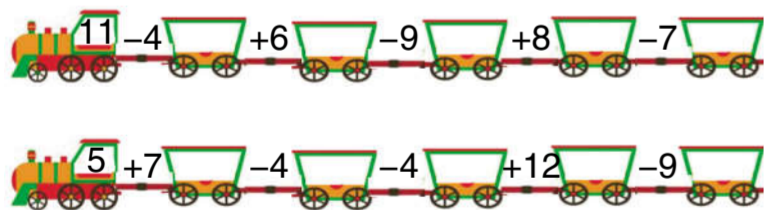
3. 在 ○ 里填上“+”或“-”。

15 ○ 9=6 8 ○ 9=17 13 ○ 7=6
11 ○ 6=5 5 ○ 8=13 18 ○ 9=9

4. 在 ○ 里填上“>”“<”或“=”。

17-8 ○ 8 5 ○ 11-7 12-4 ○ 9
6 ○ 15-8 3+8 ○ 14-3 13-7 ○ 16-7

5. 小火车来啦。



èr jì suàn tiān dì 二、计算天地。

1. 圈一圈, 算一算。



13-8=□




12-9=□

2. 直接写出得数。

6+8= 16-7= 15-8= 12-7=
4+9= 18-9= 5+7= 12-3=
11-4= 14-8= 17-9= 15-9=
13-6= 16-8= 11-5= 15-6=

3. 算一算, 连一连。(把算式和相应的得数连起来)



sān zhǎo guī lǜ bǎ xià miàn de jiǎn fǎ biǎo tián wán zhěng 三、找规律, 把下面的减法表填完整。

10-1	10-2	10-3	10-4				10-8
	11-3		11-5				11-9
	12-4		12-6		12-8	12-9	
13-4	13-5		13-7				
14-5	14-6	14-7					
	15-7	15-8					
16-7	16-8						
	17-9						
18-9							

sì kàn tú liè shì 四、看图列式。

1. 一共有多少个草莓?



□○□=□(个)

22 期 3 版 参考答案 《加与减(一)》同步测试 2

- 一、1. 8, 7, 画图略
- 2. 9, 8, 画图略
- 二、1. 4, 6, 8, 7, 10, 16, 5, 7, 6, 9; 8, 12, 2, 15, 17
- 2. <, >, >, <, >, =
- 3. 略
- 三、5, 8, 6, 9; 8, 4, 8, 9; 9, 9, 7, 8
- 四、1. 11-5=6
- 2. 14-6=8, 14-7=7
- 3. 12-9=3
- 4. (1) 12-8=4 (2) 略

23 期 4 版 参考答案 《吃苹果》

琦琦吃的苹果多, 多 1 个。 《共有多少只小鸟》 12 只

报社地址: 太原市三墙路垅 陵北街盛世华庭 A1 座 21 层 邮编: 030009 投稿邮箱: xxbsb1@126.com

本报电话: 0351-3239660 编辑质量监督电话: 0351-3239625

各科主编电话: (区号 0351) 语文: 3239630 数学: 3239641 英语: 3239662

物理、化学、生物、科学: 3239637 道德与法治、历史: 3239656

小学: 3239660 高中: 3239655 印刷: 河南东方传媒印务有限公司

地址: 郑州市二七区马寨工业园科技路 11 号 广告经营许可证号: 1400004000044

随时征订热线: 0351-3239622 邮局订户服务热线: 0351-3239623

本报四开四版 每学期 20 期 学期定价: 36.00 元

2. 一共有 11 支蜡烛。



□○□=□(支)

3. 谁多? 多几个?



() 多。 □○□=□(个)

4. 还剩多少个毽子?



□○□=□(个)

wù jiě jué wèn tí 五、解决问题。

1. 停车场里原来有 17 辆车, 开走了一些后, 还剩 8 辆车, 开走了多少辆车?



□○□=□(辆)

答: 开走了 _____ 辆车。

2. 一只蜜蜂落在一朵花上, 还缺多少朵花?



□○□=□(朵)

答: 还缺 _____ 朵花。

3. 小羊家的果园。



(1) 比 多多少个?

□○□=□(个)

答: 比 多 _____ 个。

(2) 比 少多少只?

□○□=□(只)

答: 比 少 _____ 只。

(3) 请你再提出一个数学问题, 并解答。

智力冲浪。

1. 将 6, 7, 8, 9 分别填入 □ 中, 每个数字只能用一次, 使等式成立。

□+□-□=□

2. 小明有 12 个苹果, 小华有 2 个苹果, 小明给小华多少个苹果后两人一样多?

3. 阳阳和 13 个小伙伴玩 6 个球, 如果每人玩 1 个球, 还差几个球?